




1. U každého měřidla na obrázku odhadni největší dleku a běžný rozsah. Dokážeš měřidlo pojmenovat?

měřidlo

největší rozsah

dleka

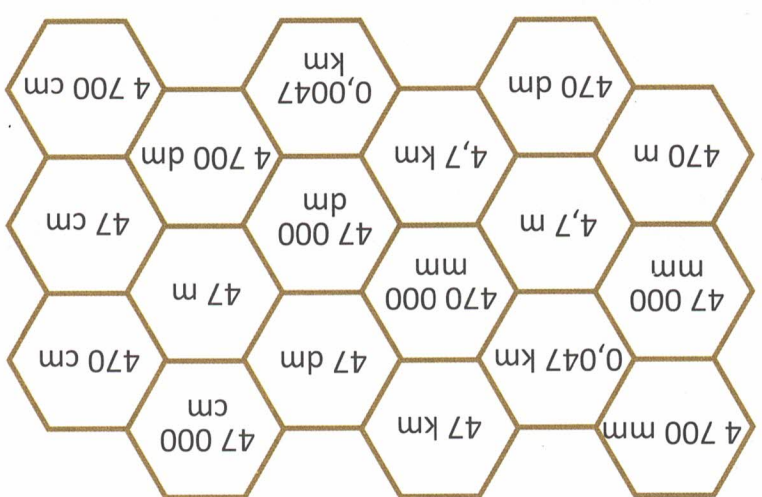


Four sets of empty boxes for recording measurements: two small boxes for 'největší rozsah' and one large box for 'dleka'.

2. Doplň tabulku převodem jednotek.

km	m	dm	cm	mm
4	71	123,7	406 800	39 500

Všechna políčka, ve kterých je údaj shodný s délkou...



- a 4,7 m, vybarvi modrou pastelkou.
- b 47 m, vybarvi červenou pastelkou.
- c 470 m, vybarvi zelenou pastelkou.
- d 4700 m, vybarvi hnědou pastelkou.
- e 47 000 m, vybarvi oranžovou pastelkou.
- f 0,47 m, vybarvi žlutou pastelkou.