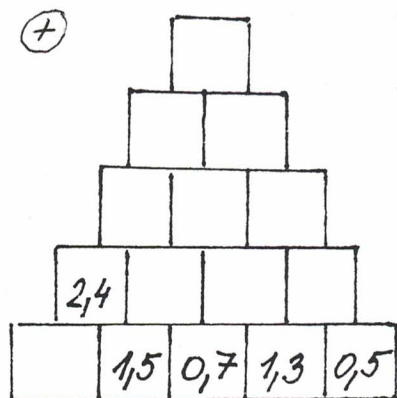


1. PRACOVNÍ LIST - 6. ROČNÍK

① DOPLŇ SCÍTACÍ PYRAMIDU:



② VYPOČÍTEJ:

a) $8,2 \cdot (4,3 + 2,1) =$

b) $3,14 + 8,6 \cdot 2,5 =$

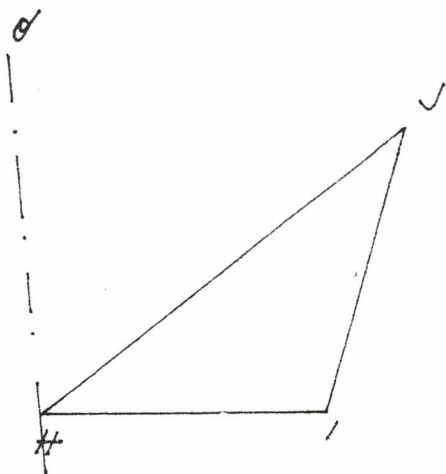
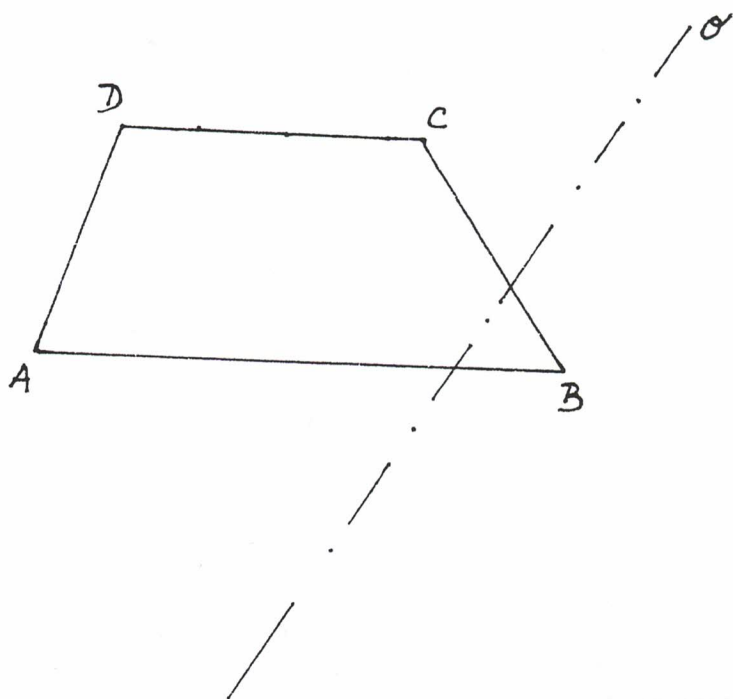
c) $(13,2 - 6,8) \cdot 10 =$

d) $4,2 \cdot 0 + 6,4 \cdot 3,5 =$

e) $9,7 \cdot 8,4 - 5,48 =$

f) $(20 - 8,6) \cdot 3,7 =$

③ ZOBRAZ V OSOVÉ SOUHĚRNOSTI:



④ $m(14, 24) =$

$D(144, 240) =$

⑤ ZOBRAZ VE STRŮVÉ SOUMĚRNOSTI:

