

1. Doplňte věty nebo podtrhněte správnou volbu:

- V současnosti žije na světě obyvatel.
- V ČR žije obyvatel, což je% světové populace.
- Nejlidnatější zemí světa je , ale brzy ji předstihne
- Člověk se vyvinul v (region) a postupně osídlil celou Zemi – jako poslední byla osídlena (region) před lety (časový údaj).
- a(stát) kolonizovalo Ameriku – proto se zde mluví hlavně a

2. Podtrhněte:

- Červeně regiony, kde přibývá nejvíce obyvatel
- Modře regiony, kde dochází ke stárnutí populace

JV Asie – Rusko - Jižní Asie – Severní Amerika – Evropa – Latinská Amerika - Afrika

3. Podtrhněte :

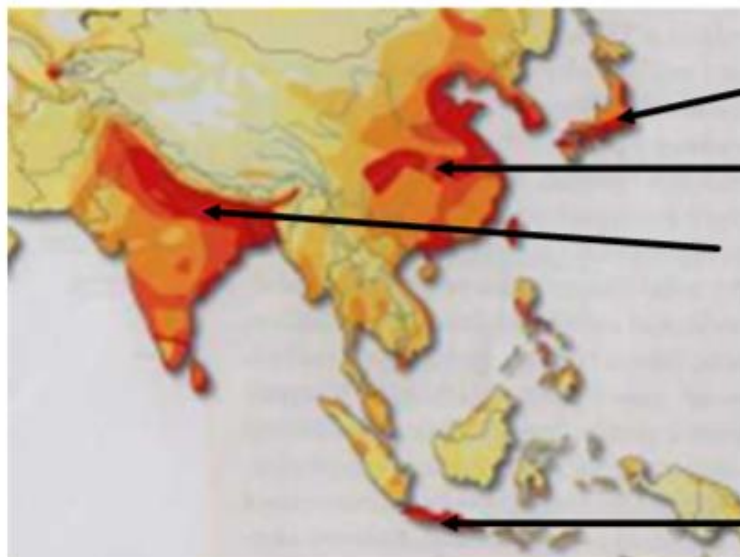
- Červeně státy s vysokou hustotou zalidnění
- Modře státy s nejnižší hustotou zalidnění

Mongolsko – Austrálie – Nizozemsko – Bangladěš – Grónsko – Island – Japonsko - Belgie

4. Vysvětlete pojmy:

- HUSTOTA ZALIDNĚNÍ –
- POHYB OBYVATELSTVA –
- PORODNOST –
- ÚMRNOST –
- EMIGRACE –
- IMIGRACE –
- VNITŘNÍ MIGRACE –
- AZYL –
- POPULAČNÍ EXPLOZE –
- ABORIDŽINCI –
- NÁROD –
- MONOTEISTICKÉ NÁBOŽENSTVÍ –

5. Na obrázku je mapa části Asie. Pojmenujte vyznačené oblasti:

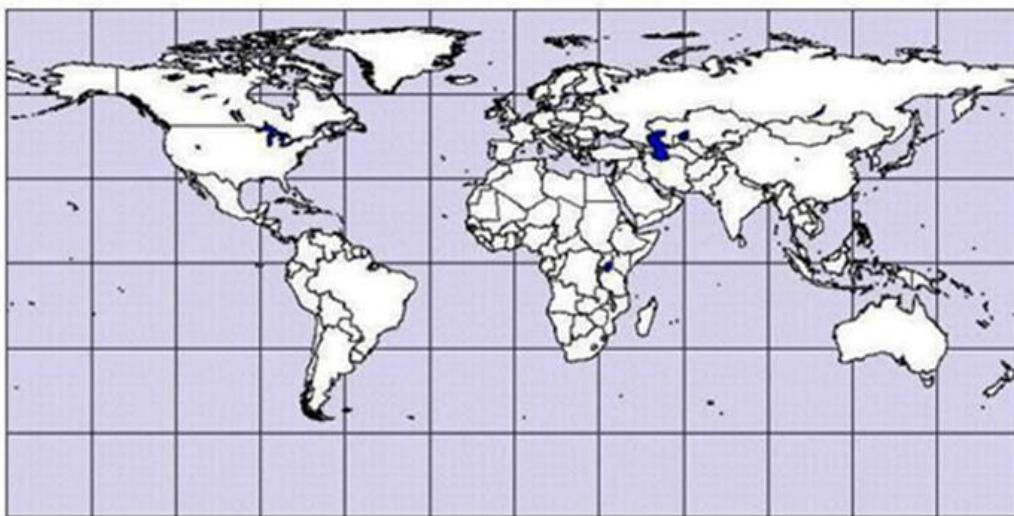


- Uveďte u každé oblasti příklad jednoho velkoměsta:

6. Vyberte správnou variantu (ANO X NE) pro tvrzení:

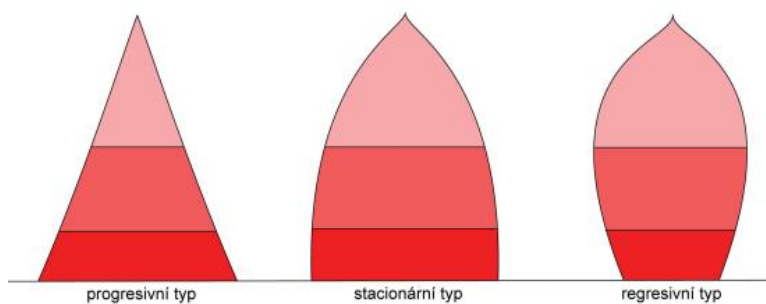
- Nejlidnatějším státem světa bude v roce 2050 Indie ANO X NE
- Nejlidnatějším kontinentem je Evropa ANO X NE
- Nejvíce obyvatel žije ve vzdálenosti do 200km od pobřeží moře ANO X NE
- V Rusku klesá počet obyvatel ANO X NE
- Nejvíce migrantů do Evropy přichází z JV Asie ANO X NE
- Nejvíce migrantů v současné vlně přijala Velká Británie ANO X NE
- Nejvyššího věku se dožívají Japonci ANO X NE
- Brazílie je nejlidnatější stát Latinské Ameriky ANO X NE
- Nejlidnatějším africkým státem je Egypt ANO X NE
- Nejvíce národů žije v Indii ANO X NE
- Islám je polyteistické náboženství ANO X NE
- Pro hinduisty je posvátným tvorem prase ANO X NE
- Maďarština je slovanský jazyk ANO X NE

7. Vyznačte v mapě 10 nejlidnatějších států světa :



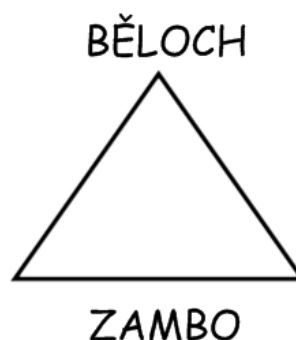
- U 3 nejlidnatějších států uveď počet obyvatel

8. K (název grafu) doplňte charakteristiky z nabídky:




- Stárnoucí populace
- Populační exploze
- Vyrovnaná populace

9. Doplňte pojmy do trojúhelníku znázorňujícího křížení ras:



10. K obrázkům doplňte názvy míšenců a státy z nabídky, kde se s nimi můžeme nejčastěji setkat:

Mexiko – USA - Brazílie



.....

.....

.....

11. V mapě Evropy vyznač schematicky rozšíření 3 hlavních jazykových větví:



- Vyznač alespoň 2 státy patřící k ugrofinské jazykové rodině

12. Doplňte tabulku nejrozšířenějších jazyků

POŘADÍ Podle počtu mluvících	JAZYK	Příklad států – alespoň 3státy
		USA,
	Hindština	
		Filipíny,
		Egypt,
1		

13. Otevřená otázka:

- Křesťanství
- Islám
- Jeruzalém
- Pohyb obyvatelstva
- Nejlidnatější státy světa
- Kolonizace
- Migrace v současné Evropě
- Nejrozšířenější jazyky







14. Vytvořte dvojice národ – stát (kde se s ním můžeme setkat)

Laponci – Kurdové – Baskové – Tibeťané

Turecko – Finsko – Španělsko - Čína

15. Doplňte do rámečků číslo označující příslušné náboženství:

Vytvoř správné trojice.

1. judaismus	2. islám	3. křesťanství
		
<input type="radio"/>	<input type="radio"/>	<input type="radio"/>
		

16. K obrázku doplňte náboženství, které charakterizuje a přiřaďte pojmy z nabídky:

pejzy – pop – Šiva – dalajláma – Vatikán - korán



.....

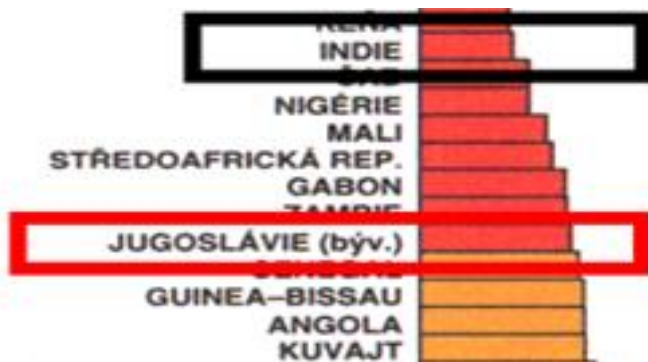
.....

17. K obrázkům doplň název státu, kde se s touto kulturou můžeš setkat:



.....

18. Vysvětlete, co znázorňuje graf na obrázku a zdůvodněte svou volbu:



19. Vyluštěte křížovku (počet písmen ve slově/ písmeno do tajenky) :

- Stát – největší hustota zalidnění 9/1
- Odchod do jiného státu 8/3
- Kříženec černoch a indiána 5/4
- Svaté město 9/7
- Budova sloužící uctívání Alláha 6/2

TAJENKA – náboženská kniha :

--	--	--	--	--